


Grote deelsommen oefenen



Geef Kroki te eten



Het Kroki spel (grote deelsommen oefenen)

De krokodillen hebben een dieet. Ze mogen niet meer of minder vissen eten dan op de lijst staat. Kroki 7 krijgt zakjes met 7 vissen tegelijk, Kroki 8 krijgt zakjes met 8 vissen tegelijk en Kroki 9, zakjes met 9 vissen.

Hoeveel zakjes moet jij als krokodillenverzorger pakken voor Kroki?

Geef Kroki zoveel mogelijk zakjes vissen tegelijk (hij heeft echt veel honger). Maar houd goed in de gaten hoeveel vissen je totaal hebt gegeven. Geef de krokodillen precies genoeg, anders worden ze ziek.

Kijk goed op de dieet lijst van elke krokodil, reken uit hoeveel zakjes je ze moet geven. Je mag gebruik maken van de hulprijtjes.



Benodigheden basisspel:

Voor iedere speler een whiteboard stift en wisdoekje, lege bakjes geprint en geplastificeerd, voor iedere speler een uitrekenschema en Kroki dieetlijst (gelamineerd of in een glad plastic hoesje), + het bijbehorende hulprijtje en nakijkblad.



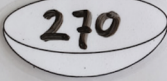
Spelregels:

Ga Kroki bakjes vissen voeren. Schrijf met whiteboard stift op een bakje hoeveel vissen je tegelijk voert.

Je mag dit hulprijtje gebruiken.
Let op: je kunt de sommen ook 10x zo groot maken!


	
9	1
18	2
27	3
36	4
45	5
54	6
63	7



Hoeveel vissen krijgt Kroki vandaag?  288	Hoeveel zakjes zijn dat? 
Doe de bakjes zo vol mogelijk  270	30

Gebruik je hulprijtje om de bakjes zo vol mogelijk te doen (Kroki heeft veel honger, vul zijn bakjes steeds zo vol mogelijk).

Leg de bakjes op het schema en schrijf er achter hoeveel zakjes tegelijk je voert. Trek een streep onder ieder bakje en reken de min som uit. Hoeveel vissen houd je nog over en hoe vol doe je het volgende bakje (kijk weer op je hulprijtje). Ga door tot je geen vissen meer over hebt. Hoeveel zakjes vissen heb je nodig voor die dag? Dat is het antwoord op je som. Schrijf je antwoord op de dieetlijst van Kroki.

Hoeveel vissen krijgt Kroki vandaag?	Hoeveel zakjes zijn dat?
288	
Doe de bakjes zo vol mogelijk	
270	30
18	
18	2
0	
Denk eraan, na ieder 'bordje eten' trek je een streep onder de som en je rekent de min	Hoeveel zakjes totaal? 32

Dieetlijst Kroki 9

Hoeveel zakjes zijn dat?

Maandag: 324 vissen

Dinsdag: 432 vissen

Woensdag: 531 vissen

Donderdag: 738 vissen

Vrijdag: 657 vissen



Je kunt je antwoorden controleren op het antwoordenblad.

Je kunt het spel ook tegen iemand spelen, wie heeft de sommen het snelste uitgerekend?

Gevorderde spelers:

- Maak je eigen dieetlijst met sommen van je eigen rekenwerk. Het kunnen ook andere Kroki's zijn, bijvoorbeeld Kroki 6, 13 of 27. Als het nodig is kun je een hulpprijtje maken op het lege hulpprijtjes blad.

- Gebruik het lege schema, zonder voerbakjes

- Reken ook deelsommen met rest uit.

Dieetlijst Kroki 7

Hoeveel zakjes zijn dat?

Maandag: 252 vissen

Dinsdag: 413 vissen

Woensdag: 161 vissen

Donderdag: 476 vissen

Vrijdag: 203 vissen

Zaterdag: 735 vissen

Zondag: 532 vissen

Dieetlijst Kroki 8

Hoeveel zakjes zijn dat?

Maandag: 368 vissen

Dinsdag: 552 vissen

Woensdag: 216 vissen

Donderdag: 464 vissen

Vrijdag: 344 vissen

Zaterdag: 856 vissen

Zondag: 488 vissen

Dieetlijst Kroki 9

Hoeveel zakjes zijn dat?

Maandag: 324 vissen

Dinsdag: 432 vissen

Woensdag: 531 vissen

Donderdag: 738 vissen

Vrijdag: 657 vissen

Zaterdag: 954 vissen

Zondag: 378 vissen

Dieetlijst Kroki _____

Hoeveel zakjes zijn dat?

Maandag: _____ vissen _____

Dinsdag: _____ vissen _____

Woensdag: _____ vissen _____

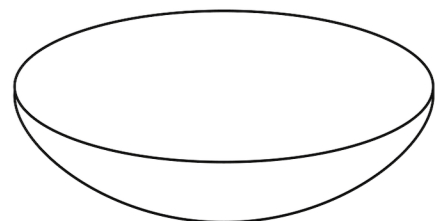
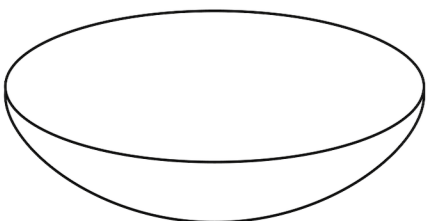
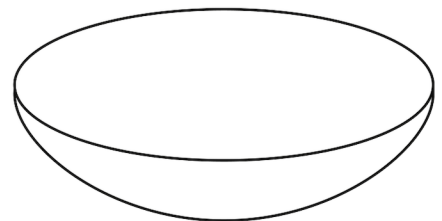
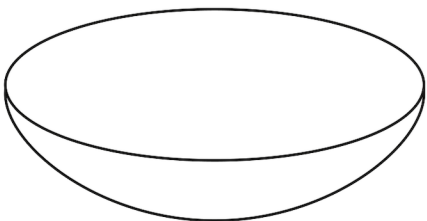
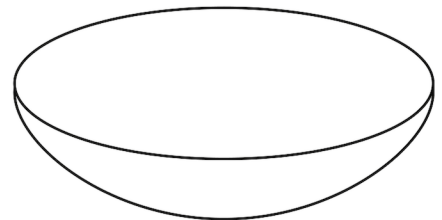
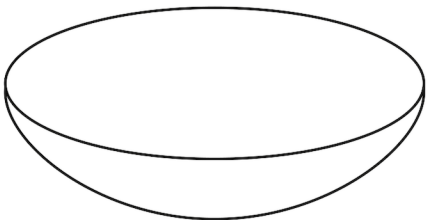
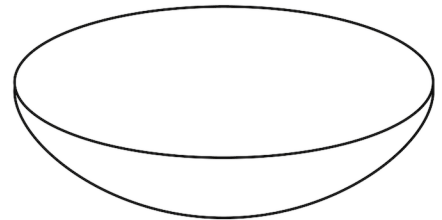
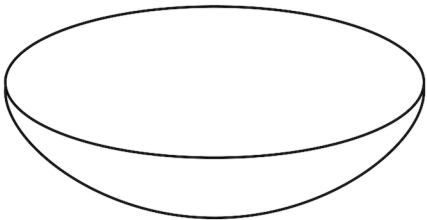
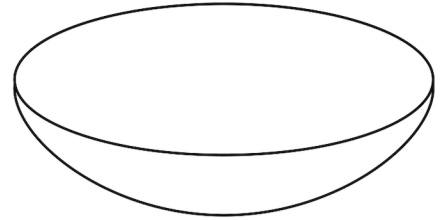
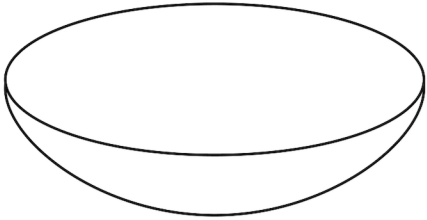
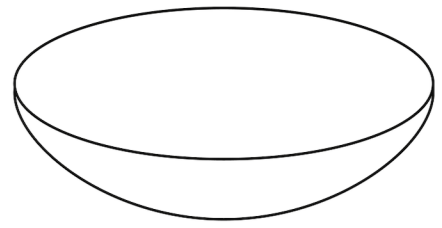
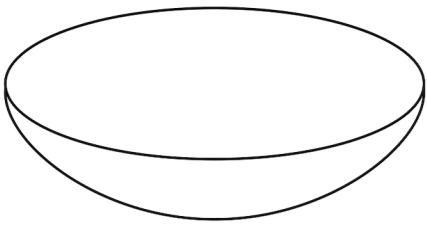
Donderdag: _____ vissen _____

Vrijdag: _____ vissen _____

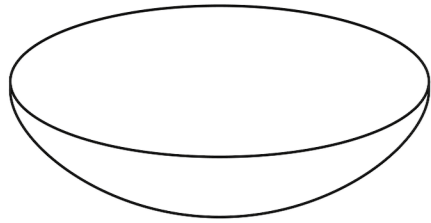
Zaterdag: _____ vissen _____

Zondag: _____ vissen _____

*Kroki voerbakjes.
Knip de bakjes uit en lamineer ze, zodat je erop kunt schrijven.*



Hoeveel vissen krijgt Kroki vandaag?



Doe de bakjes zo vol mogelijk

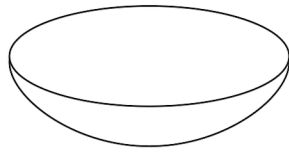
Hoeveel zakjes zijn dat?



Denk eraan, na ieder 'bakje eten' trek je een streep onder de som en je rekt de min som uit. Ga door tot je bij 0 bent.

Hoeveel zakjes totaal?

Je mag dit hulplijstje gebruiken.
Let op: je kunt de sommen ook 10x of 100x zo groot maken!



7

1

14

2

21

3

28

4

35

5

42

6

49

7

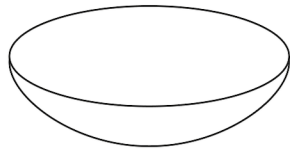
56

8

63

9

Je mag dit hulprijtje gebruiken.
Let op: je kunt de sommen ook 10x of 100x zo groot maken!



8

1

16

2

24

3

32

4

40

5

48

6

56

7

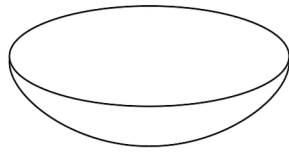
64

8

72

9

Je mag dit hulprijtje gebruiken.
Let op: je kunt de sommen ook 10x of 100x zo groot maken!



9

1

18

2

27

3

36

4

45

5

54

6

63

7

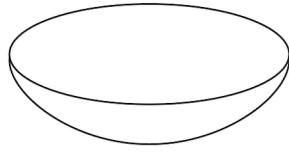
72

8

81

9

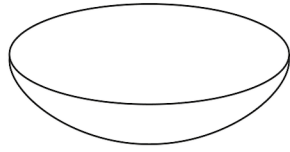
Leeg hulprijtjes blad versie 1



Kroki nummer:

- 1
- 2
- 3
- 4
- 5
- 6
- 7
- 8
- 9

Leeg hulprijtjes blad versie 2



Kroki nummer:

1

2

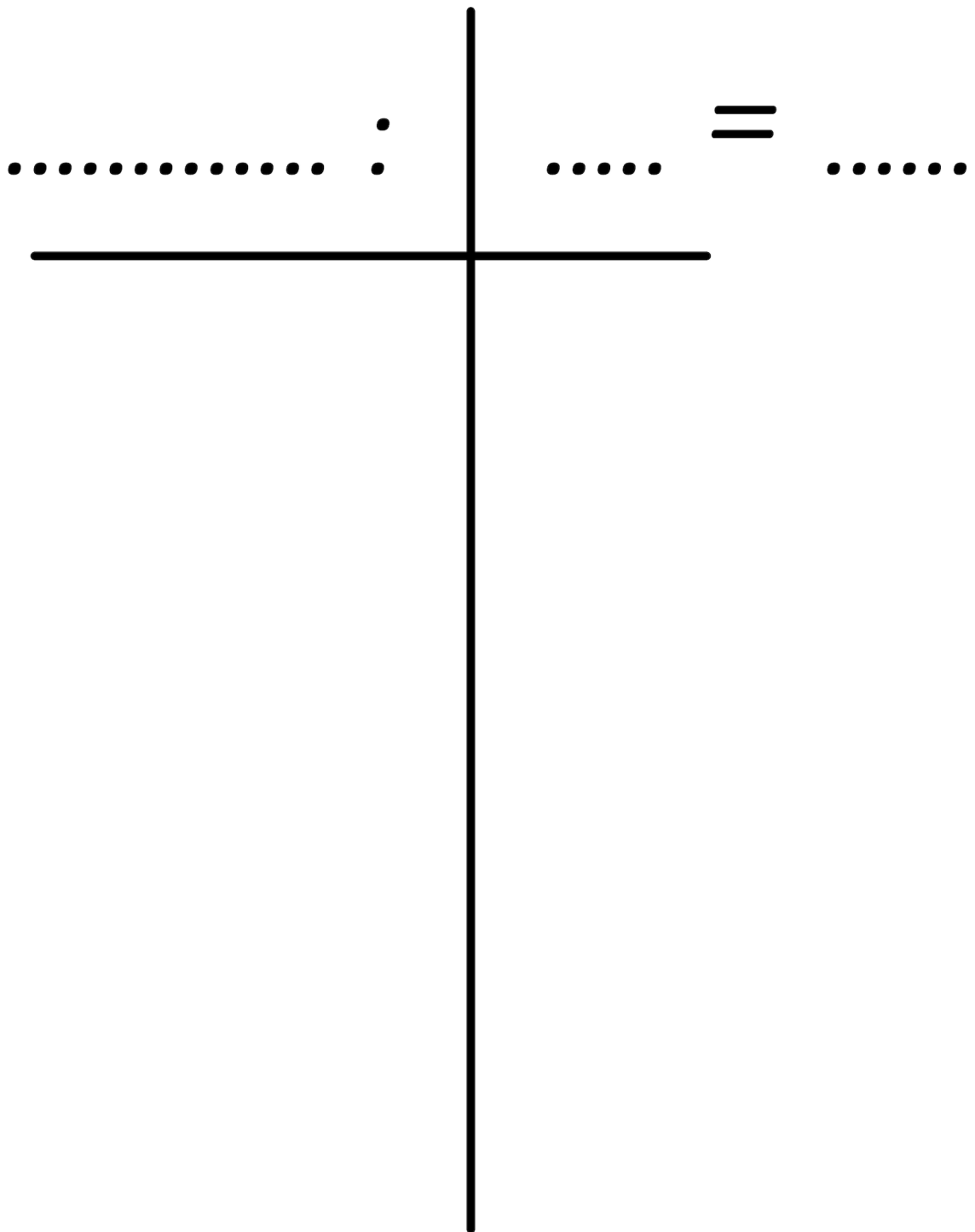
4

8

10

5

Lukt het al om de som zo op te schrijven?



Denk eraan, na ieder 'bordje eten' trek je een streep onder de som en je rekent de min som uit.



Dit is het antwoord van de som.

Nakijkblad Kroki 7

Hoeveel zakjes zijn dat?

Maandag: 252 vissen $252:7=36$

Dinsdag: 413 vissen $413:7=59$

Woensdag: 161 vissen $161:7=23$

Donderdag: 476 vissen $476:7=68$

Vrijdag: 203 vissen $203:7=29$

Zaterdag: 735 vissen $735:7=105$

Zondag: 532 vissen $532:7=76$

Nakijkblad Kroki 8

Hoeveel zakjes zijn dat?

Maandag: 368 vissen $368:8=46$

Dinsdag: 552 vissen $552:8=69$

Woensdag: 216 vissen $216:8=27$

Donderdag: 464 vissen $464:8=58$

Vrijdag: 344 vissen $344:8=43$

Zaterdag: 856 vissen $856:8=107$

Zondag: 488 vissen $488:8=61$

Nakijkblad Kroki 9

Hoeveel zakjes zijn dat?

Maandag: 324 vissen $324:9=36$

Dinsdag: 432 vissen $432:9=48$

Woensdag: 531 vissen $531:9=59$

Donderdag: 738 vissen $738:9=82$

Vrijdag: 657 vissen $657:9=73$

Zaterdag: 954 vissen $954:9=106$

Zondag: 378 vissen $378:9=42$